

ANEXO 3

UNIVERSIDAD DE LAS AMÉRICAS PUEBLA

HOJA DE EVALUACIÓN

PROYECTO DE TITULACIÓN: REALIZACIÓN DE NUDOS QUIRÚRGICOS

NÚMERO DE PARTICIPANTE

Prueba de discriminación de fases:

¿Son iguales? SI NO

Prueba de rotación de superficies:

¿Cuál o cuáles son iguales?

Maniobra de aprendizaje:

On the Job Training

Enseñanza tradicional

El participante aprendió a realizar nudos quirúrgicos a dos manos

SI NO

El nudo quirúrgico es cuadrado

SI NO

El nudo quirúrgico es firme

SI NO


El nudo quirúrgico se desliza

SI NO

Tiempo en la realización del nudo quirúrgico

Prueba de discriminación de fase



¿Las barras oscuras y las barras claras tienen la misma posición relativa en la figura superior que en la figura inferior? (Tienes 20 segundos).




Prueba mental de rotaciones

¿Cuál o cuales de las 4 figuras de la derecha representan la misma figura que la primera de la izquierda? (Tienes 1 minuto).

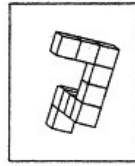
A




1



2



3



4